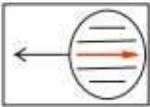
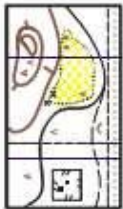
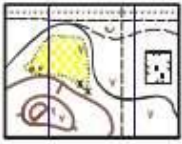

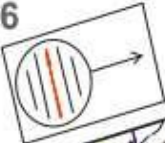
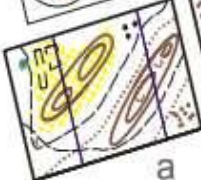


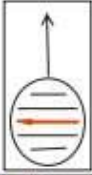

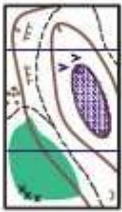


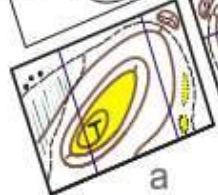

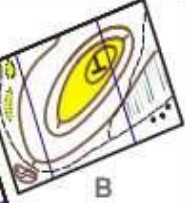
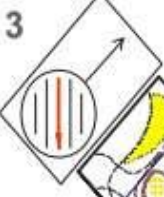
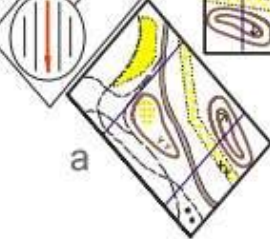
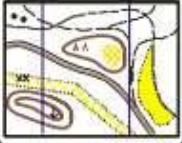
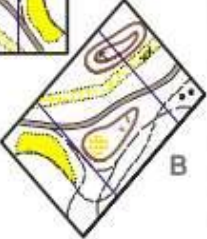

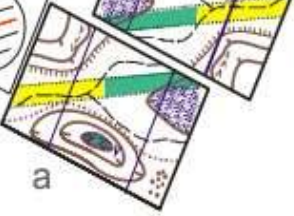
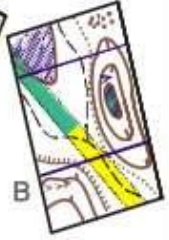
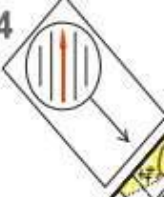
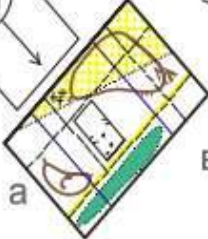

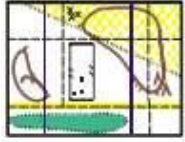

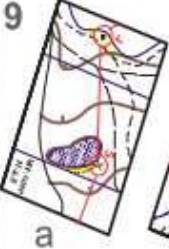
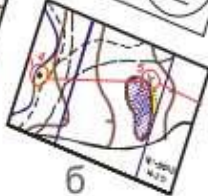


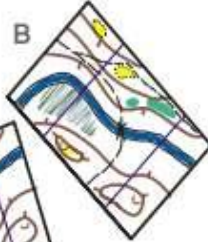
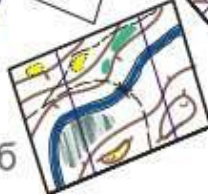


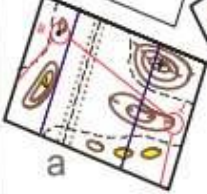

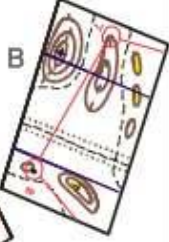


Какая карта сорентирована по компасу?

<p>1</p>	<p>6</p>
<p>2</p>	<p>7</p>
<p>3</p>	<p>8</p>
<p>4</p>	<p>9</p>
<p>5</p>	<p>10</p>

Какая карта сориентирована по компасу?

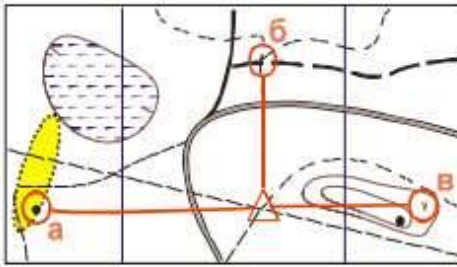
<p>1</p> <p>а  в</p> <p> б  в </p>	<p>6</p> <p> а  б  в </p>
<p>2</p> <p>а  б  в </p> <p></p>	<p>7</p> <p> а  б  в </p>
<p>3</p> <p> а  б  в </p>	<p>8</p> <p> а  б  в </p>
<p>4</p> <p> а  б  в </p>	<p>9</p> <p> а  б  в </p>
<p>5</p> <p>а  в  б </p> <p></p>	<p>10</p> <p> а  б  в </p>

На какой КП придет участник, если со старта будет двигаться:

На какой КП придет участник, если будет двигаться:

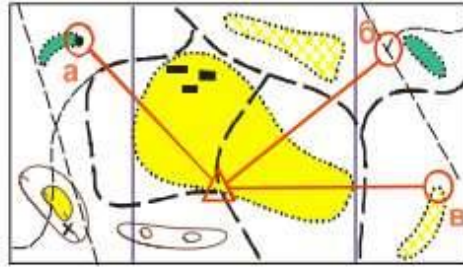
1

на запад



6

по азимуту 45 градусов



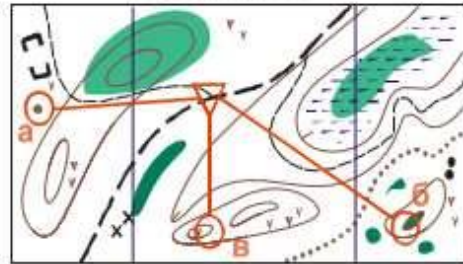
2

на юго-восток



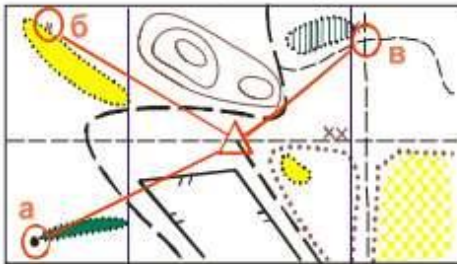
7

по азимуту 180



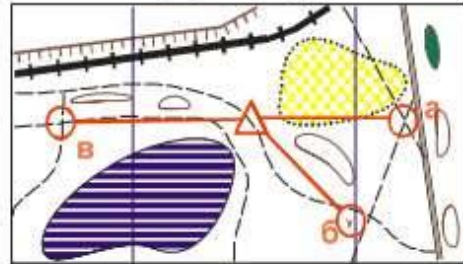
3

на северо-запад




8

по азимуту 90 градусов



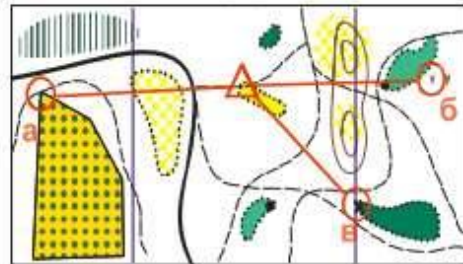
4

на юго-запад



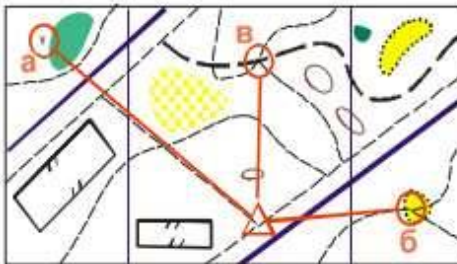
9

по азимуту 270



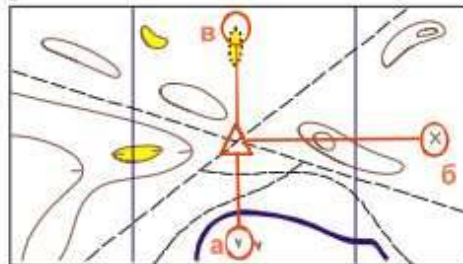
5

на север



10

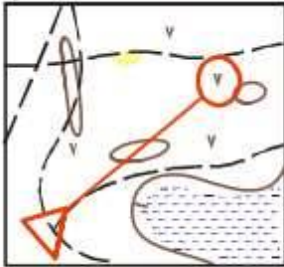
по азимуту 360



В каком направлении надо двигаться от старта, чтобы прийти на КП?

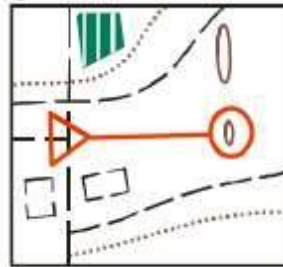
По какому азимуту надо двигаться от старта, чтобы прийти на КП?

1



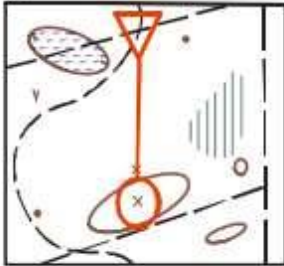
- а) на северо-запад
- б) на северо-восток
- в) на восток

6



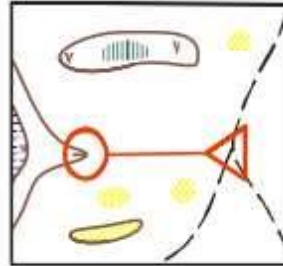
- а) 90 градусов
- б) 270 градусов
- в) 180 градусов

2



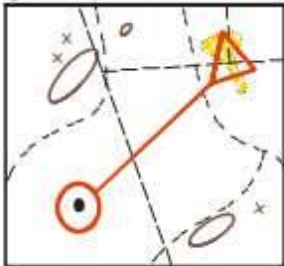
- а) на юг
- б) на восток
- в) на север

7



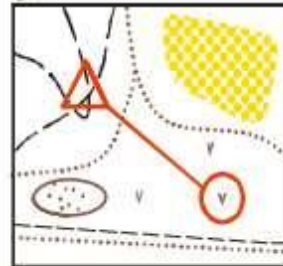
- а) 45 градусов
- б) 90 градусов
- в) 270 градусов

3



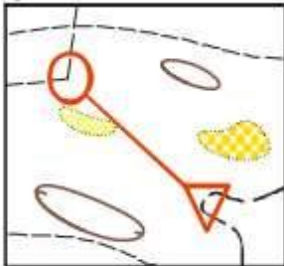
- а) на юго-запад
- б) на северо-запад
- в) на юго-восток

8



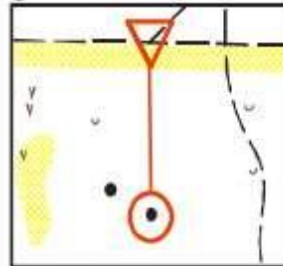
- а) 135 градусов
- б) 45 градусов
- в) 225 градусов

4



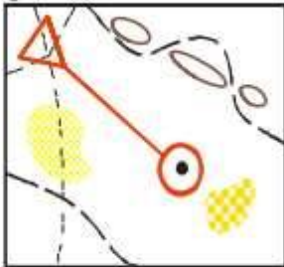
- а) на северо-восток
- б) на запад
- в) на северо-запад

9



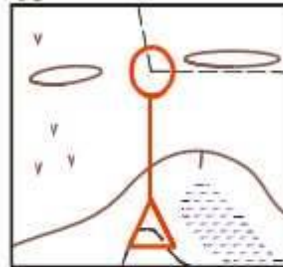
- а) 270 градусов
- б) 180 градусов
- в) 315 градусов

5



- а) на юго-запад
- б) на юго-восток
- в) на юг

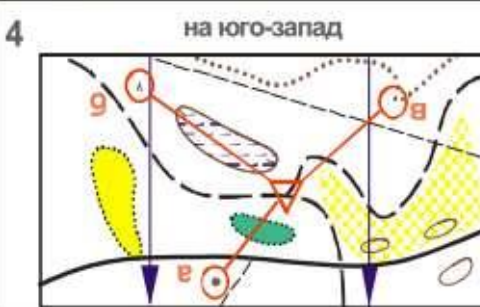
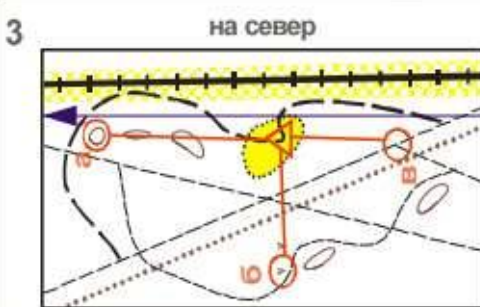
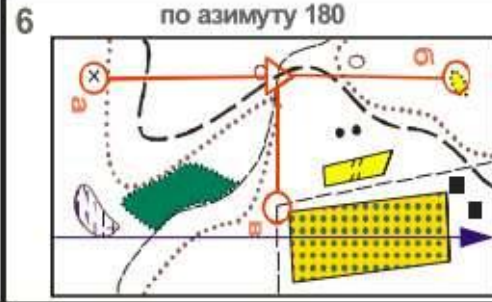
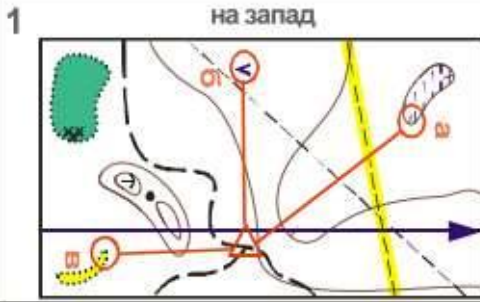
10



- а) 180 градусов
- б) 90 градусов
- в) 360 градусов

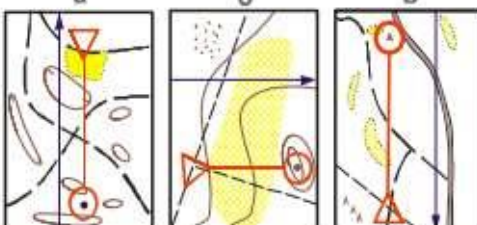
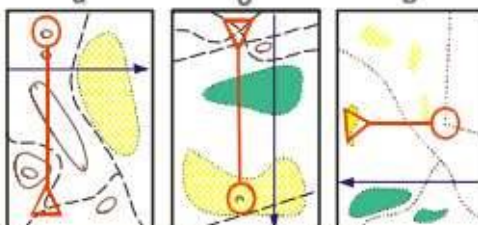
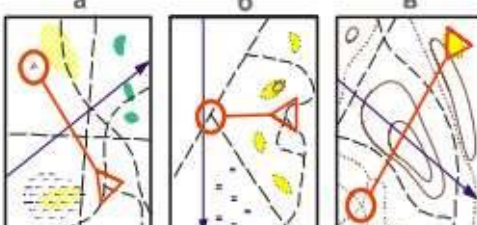
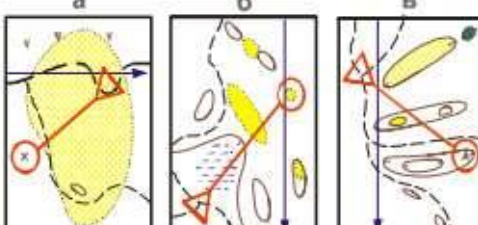
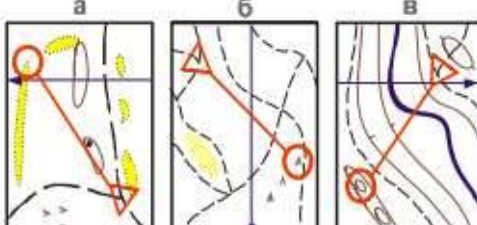
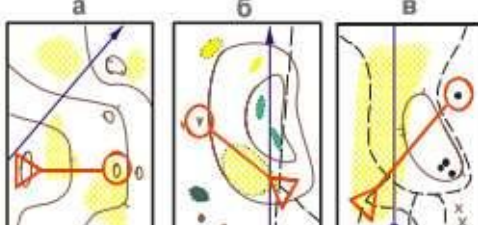
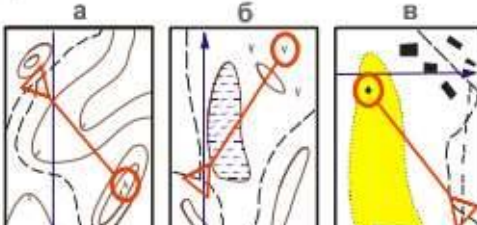
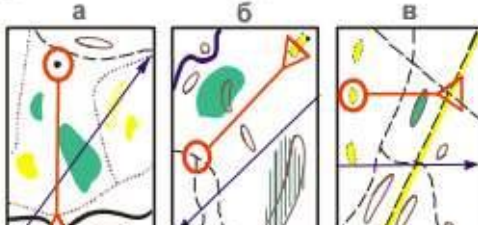
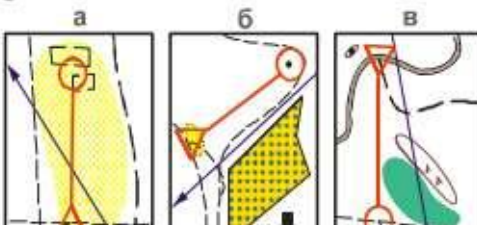
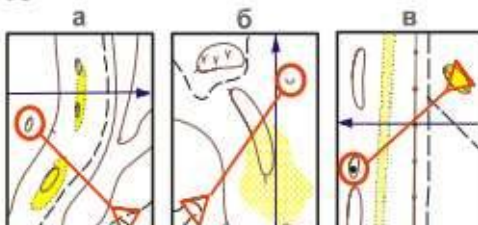
На какой КП придет участник, если со старта будет двигаться:

На какой КП придет участник, если будет двигаться:



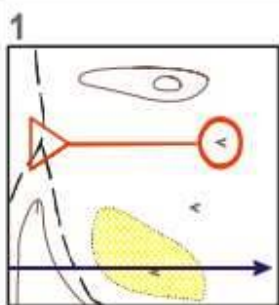
На какой КП придет участник, если со старта будет двигаться:

На какой КП придет участник, если будет двигаться:

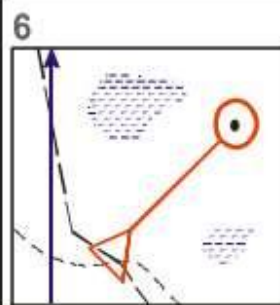
<p>1 на север</p> 	<p>6 по азимуту 180</p> 
<p>2 на запад</p> 	<p>7 по азимуту 225</p> 
<p>3 на юго-восток</p> 	<p>8 по азимуту 45 градусов</p> 
<p>4 на северо-запад</p> 	<p>9 по азимуту 360</p> 
<p>5 на юг</p> 	<p>10 по азимуту 315</p> 

В каком направлении надо двигаться от старта, чтобы прийти на КП?

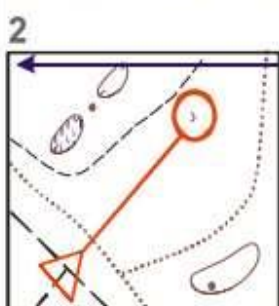
По какому азимуту надо двигаться от старта, чтобы прийти на КП?



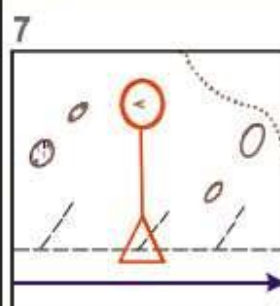
- а) на запад
- б) на восток
- в) на север



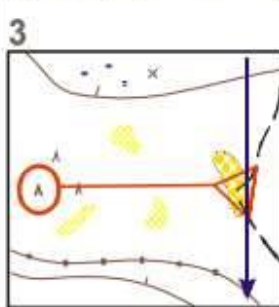
- а) 45 градусов
- б) 315 градусов
- в) 225 градусов



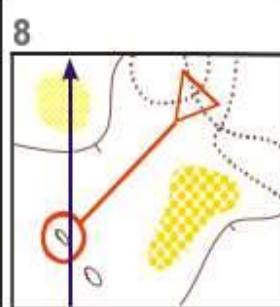
- а) на юго-восток
- б) на северо-восток
- в) на юго-запад



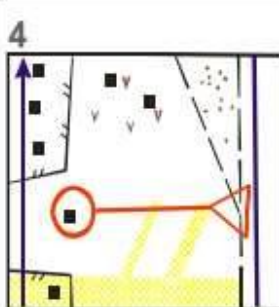
- а) 180 градусов
- б) 270 градусов
- в) 90 градусов



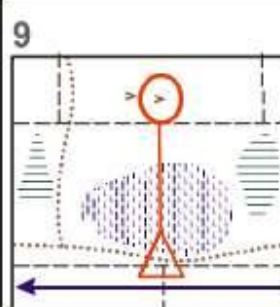
- а) на север
- б) на восток
- в) на запад



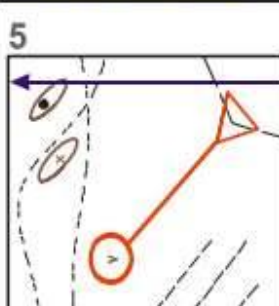
- а) 315 градусов
- б) 135 градусов
- в) 225 градусов



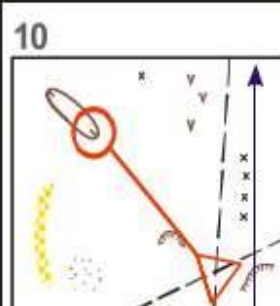
- а) на юг
- б) на восток
- в) на запад



- а) 90 градусов
- б) 360 градусов
- в) 270 градусов



- а) на северо-восток
- б) на северо-запад
- в) на юго-запад



- а) 270 градусов
- б) 45 градусов
- в) 315 градусов